

TEST ONLINE EXCEL 2016 Nº 05

OPCIONES VARIAS

1. Si quiere calcular el mayor de un grupo de números usará la función llamada...

- a) MAXIMO
- b) MAYOR
- c) MAX
- d) MIN

2. Para calcular una media aritmética se usará la función llamada...

- a) PROD
- b) MEDIA
- c) PROMEDIO
- d) MED

3. La referencia de celda \$A\$7 es una referencia del tipo...

- a) Referencia Simétrica
- b) Referencia Mixta
- c) Referencia Relativa
- d) Referencia Absoluta

4. Para calcular el 21% de la celda B4 tendría que usar la fórmula

- a) =B4+21%
- b) =B4+21
- c) =B4*21%
- d) =B4*21

5. ¿Cuál de los siguientes es el símbolo de la división?

- a) /
- b) *
- c) -
- d) +

6. ¿Cuál es el resultado que aparecerá en la celda B10 al pulsar Enter?

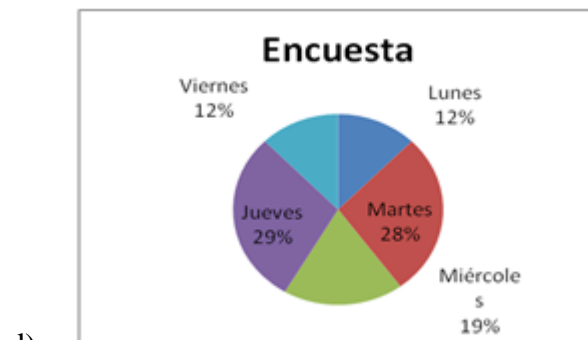
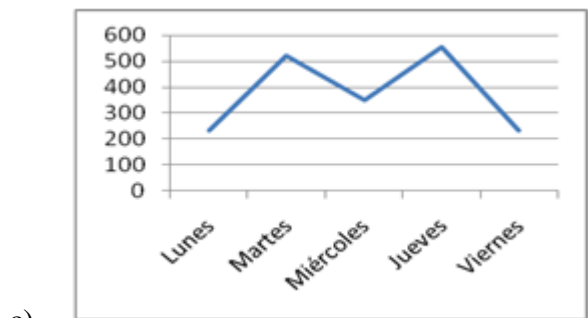
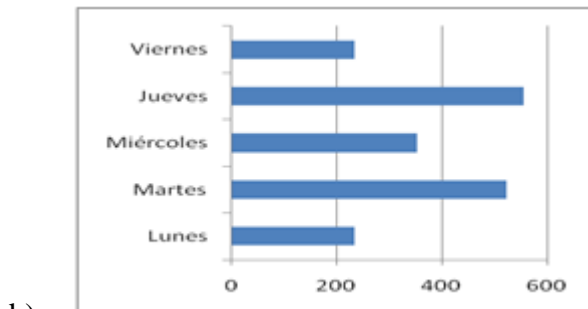
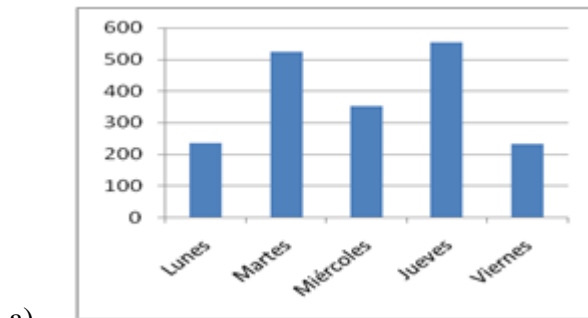
	A	B	C
1			
2			
3			
4			
5			
6			
7			
8			
9			
10		=MIN(B3:B8)	
11			
12			

- a) 8
- b) 1
- c) 4
- d) Error

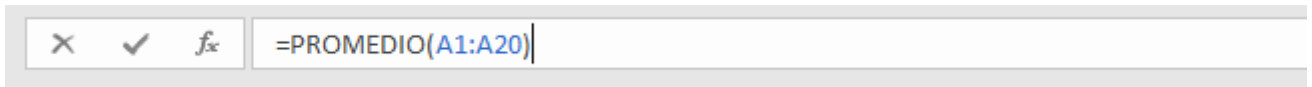
7. Si usa el controlador de relleno con una celda que contiene la palabra *Lunnes* el resultado será...

- a) Lunes, Miércoles, Viernes, ...
- b) Lunnes, Lunnes, Lunnes,...
- c) Lunnes1, Lunnes2, Lunnes3, ...
- d) Lunes, Martes, Miércoles, ...

8. ¿Cuál de los siguientes es un gráfico de columnas?



9. La barra que muestra el contenido de las celdas se denomina...



- a) Barra de fórmulas
- b) Barra de contenido
- c) Barra de formato
- d) Barra de cálculos

10. Si usa el cuadro de llenado con una celda que contiene la letra A el resultado será...

- a) A1, B2, C3, ...
- b) A, A, A, etc...
- c) A1, A2, A3, etc...
- d) A, B, C, etc...

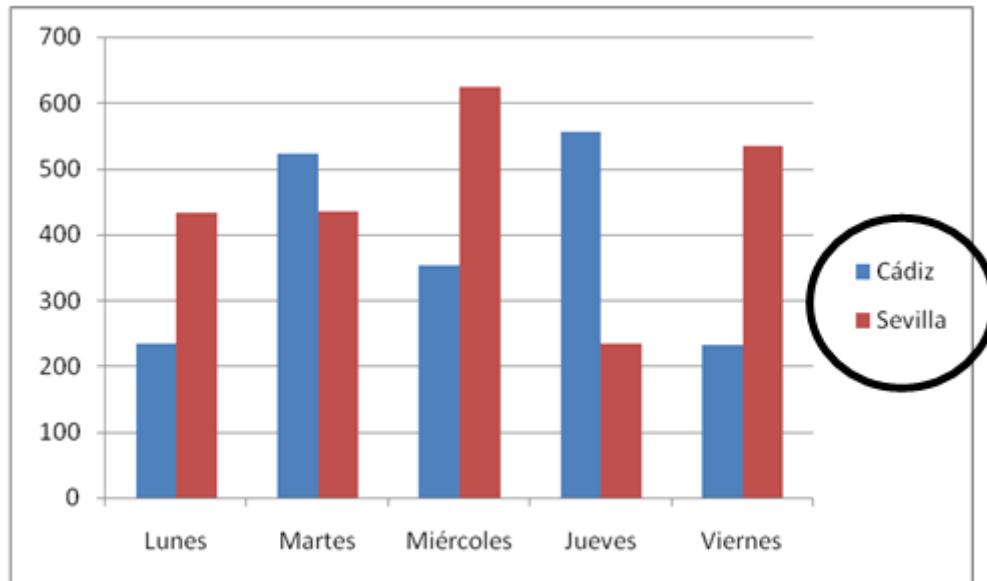
11. Para copiar un grupo de celdas debe...

- a) Seleccionar las celdas, activar Copiar, seleccionar la celda de destino, activar Pegar.
- b) Seleccionar las celdas, activar Cortar, seleccionar la celda de destino, activar Pegar.
- c) Seleccionar las celdas, activar Copiar, seleccionar la celda de destino, activar Cortar.
- d) Seleccionar las celdas, activar Copiar, seleccionar la celda de destino, activar Copiar de nuevo.

12. Cuando usa la opción Guardar para guardar el libro...

- a) Se guarda solo la primera hoja del libro.
- b) Se guarda solo la hoja del libro en la que esté trabajando.
- c) Se guardan todas las hojas del libro.
- d) Se guarda la última hoja del libro que haya realizado.

13. ¿Cómo se llama la parte del gráfico indicada con un círculo?



- a) Leyenda
- b) Título del gráfico
- c) Barras
- d) Eje vertical

14. Si quiero referirme a la celda A7 que se encuentra en la hoja llamada *INFORME* debo escribir lo siguiente...

- a) A7!INFORME
- b) \$INFORME\$A\$7
- c) INFORME!A7
- d) INFORME:A7

15. Si quiere visualizar en una tabla solo aquellas filas que cumplan una condición debe usar la opción...

- a) Filtro
- b) Ordenar
- c) Reemplazar
- d) Insertar fila

16. ¿Qué columna es la siguiente a la columna Z?

- a) AZ
- b) ZA
- c) BA
- d) AA

17. ¿Qué aparecerá en la celda B9 cuando se pulse Enter?

	A	B	C
1			
2		Pepe	
3			1
4			4
5		Ana	
6			6
7			7
8			
9		=CONTAR(B2:B7)	
10			

- a) 6
- b) 4
- c) 5
- d) 1

18. ¿Qué aparecerá en la celda B9 cuando se pulse Enter?

	A	B	C	D
1				
2		Juan		2
3		Ana		6
4		Pepe		4
5		Pepe		1
6		Ana		7
7		Ana		8
8				
9		=CONTAR.SI(B2:B7;"Ana")		
10				

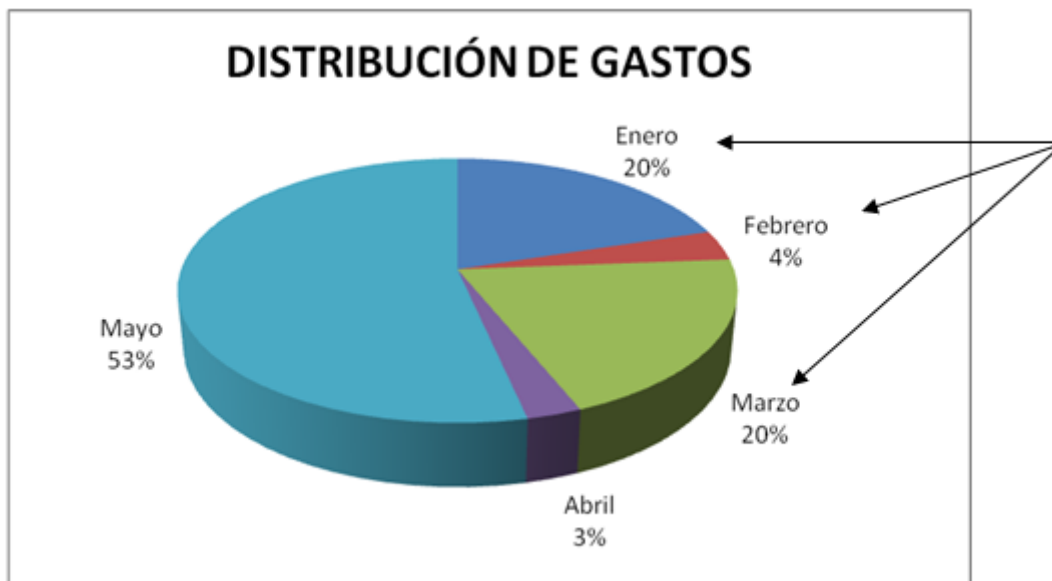
- a) 3
- b) 10
- c) 0
- d) 21

19. ¿Qué aparecerá en la celda C3 cuando se pulse Enter?

	A	B	C	D
1				
2	TOTAL			
3	10		=SI(A3<20;55;66)	
4				
5				

- a) 20
- b) 55
- c) 10
- d) 66

20. ¿Cómo se llama el elemento indicado en el gráfico?



- a) Título del gráfico
- b) Leyenda
- c) Rótulos de eje
- d) Etiquetas de datos

TEST N° 5 – OPCIONES VARIAS

RESPUESTAS

1. C
2. C
3. D
4. C
5. A
6. B
7. B
8. A
9. A
10. B
11. A
12. C
13. A
14. C
15. A
16. D
17. B
18. A
19. B
20. D

© 2022 - Mesagames/Ejerciciosmesa - José Manuel Rosado Hurtado
Todos los derechos reservados